



都道府県の形を見て、都道府県名を答えましょう。


※大きさのひりつと方角は同じではありません。また、島は一部省りやくしてあります。



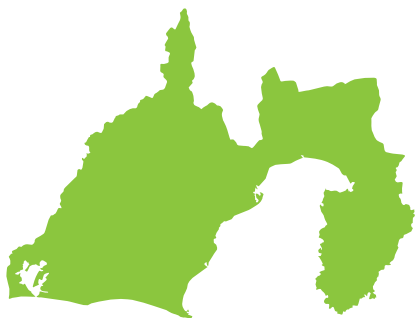
問 1 あきた けん
秋田県



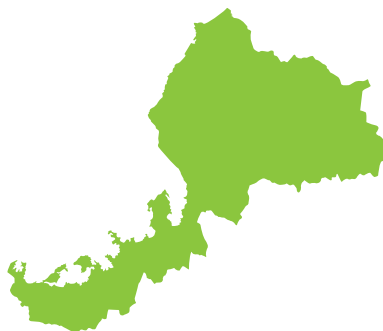
問 2 か な が わ けん
神奈川県



問 3 ふくおか けん
福岡県



問 4 しずおか けん
静岡県



問 5 ふくい けん
福井県



問 6 やまがた けん
山形県